




١٠. الآن وبعد أن عرفت كيفية عمل القلاب D ، وتمكنت من معرفة جدول الصواب له عمليا قم بإيجاد خرج القلاب في وضعه المعتاد في الجدول التالي :

حالة القلاب	Q	Q	D	CK
			0	
			1	
			0	

١١. قم بإدخال الأعطال التالية ثم حدد العطل مع ذكر الأعراض الخاصة به .
ملحوظة : لتسهيل عملية الكشف عن العطل قم بالتأكد من الدائرة ، هل هي في وضعها الطبيعي ، وستحدد مكمّن الاختلاف وبذلك تحصل على أعراض العطل ، ومن ثم تحديده .

رقم العطل	الأعراض	العطل	ماسح العطل
F210			C000

١٢. قم بإدخال الرقم F114 ومن ثم أدخل العطل الآخر .

رقم العطل	الأعراض	العطل	ماسح العطل
F203			C000

١٣. ضع مفاتيح التحكم للتغذية الموجبة والسالبة في وضع الفصل .

١٤. افصل تغذية منصة التجارب عن طريق المفتاح Power .

١٥. أعد جميع المعدات إلى مواضع تخزينها .